

Processo Seletivo 1º semestre/2017

**REDAÇÃO
PROVA DE CONHECIMENTOS GERAIS**



Araxá, 27 de novembro de 2016

INSTRUÇÕES GERAIS

Este caderno contém uma Prova de Conhecimentos Gerais, constituída de 30 questões com quatro alternativas cada uma. Apresenta ainda 2 (duas) propostas de temas para redação à sua escolha.

ATENÇÃO:

- 1- Antes de começar a resolver as questões:
 - Verifique se o seu caderno está completo e se as questões, além de apresentar as quatro alternativas, estão corretamente numeradas de 01 a 30.
 - Havendo algum problema, solicite a substituição de seu caderno.
- 2- Ao receber o cartão de respostas, confira o seu número de inscrição. Se houver erro, peça a troca.
- 3- Quando for transferir a opção para o cartão de respostas:
 - Assinale somente uma alternativa em cada questão; caso contrário, sua resposta será desconsiderada.
 - Faça o possível para não deixar nenhuma questão sem resposta.
 - O cartão de respostas não deve ser dobrado, amassado ou rasurado.
 - O cartão de respostas é personalizado.
 - Não erre, porque a substituição é impossível.
 - Cuide bem dele, pois é a sua prova.
- 4- Duração total da prova: 3 horas.
- 5- Tempo mínimo de permanência em sala: 1 hora.
- 6- Antes do início da prova, os celulares deverão ser desligados, bolsas, e outros objetos guardados debaixo da carteira.
- 7- No caso de anulação de alguma questão, por erro de elaboração ou de impressão, os pontos serão computados para todos os candidatos.
- 8- Os fiscais não estão autorizados a dar informações sobre as provas.

BOA PROVA!

COORDENAÇÃO COPESE

INSTRUÇÕES PARA A REDAÇÃO

Você encontrará duas situações para fazer sua redação. Leia-as e escolha o tema com o qual você tenha maior afinidade. A partir dele, redija um **texto dissertativo**. Atente: à **clareza e consistência dos argumentos** em defesa de um ponto de vista sobre o assunto; à **coesão e coerência** do texto; ao domínio do **português padrão**. Ao final, proceda a uma revisão textual, considerando todos os critérios mencionados acima. Utilize, no mínimo, **20 linhas** e, no máximo, **30 linhas** da folha reservada à produção de seu texto.

PROPOSTA 1

Idosos em nossa sociedade: valorizados, desvalorizados ou privilegiados?

Com o “envelhecimento” da população brasileira, tem-se falado muito da importância do bem-estar dos idosos. Em sociedades como a indiana e a japonesa, por exemplo, o velho é a figura mais importante da família e da comunidade. No Brasil, alguns sociólogos afirmam que, se um país precisa de um “estatuto dos idosos” (ou seja, de uma lei) para lembrar a respeitabilidade deles, isso indica que algo está muito errado... Por outro lado, há tantos privilégios sociais em torno da “terceira idade” (meias-entradas, ausência de filas, empréstimos especiais) que os “não velhos” se consideram prejudicados. Qual é sua opinião: **o idoso, no Brasil – com ou sem rendimentos próprios – é valorizado, desrespeitado ou privilegiado?**

Obrigação social

Art. 3 – É obrigação da família, da comunidade, da sociedade e do Poder Público assegurar ao idoso, com absoluta prioridade, a efetivação do direito à vida, à saúde, à alimentação, à educação, à cultura, ao esporte, ao lazer, ao trabalho, à cidadania, à liberdade, à dignidade, ao respeito e à convivência familiar e comunitária. [...]

Art. 4 – Nenhum idoso será objeto de qualquer tipo de negligência, discriminação, violência, crueldade ou opressão, e todo atentado aos seus direitos, por ação ou omissão, será punido na forma da lei.

Nem tem 60 anos

“É um absurdo, é um exagero! Você vai ao banco, ao cinema, em qualquer fila, até as de emergência, e aquele monte de pessoas passa na sua frente se dizendo idoso... Quem é idoso? A pessoa às vezes nem tem 60 anos, anda de tênis, usa óculos escuros, está super bem arrumada, mulheres maquiadas, homens jogando charme e dizem “sou idoso”. E lá ficamos nós, trouxas, para trás. Acho que há muita moleza. Até officevelho os escritórios arranjaram... Empréstimos, décimo-terceiro antecipado, medicamentos e trabalho? Tudo é para eles, e nós, que estamos na idade adulta e necessitada, o que sobra para nós? O governo devia pensar em todos, mesmo porque ser idoso não é ser minoria”.

[Desabafo de cidadão que preferiu não se identificar]

Aposentadoria minguada

“Sou idoso, vivo de minha aposentadoria minguada do INSS e tenho empréstimo consignado e dívida em bancos que não estou conseguindo pagar em dia. Nem assistência médica eu tenho. Mesmo assim, o valor de pouco mais de R\$100 que eu deveria receber de restituição do IR está bloqueado [...]”.

[Antônio do Valle Painei, Painei do leitor, Folha de S. Paulo, 9/10/09]

Fragilidade

“As situações que levam ao abandono são provocadas pela condição de fragilidade do idoso, que pode passar a depender de outras pessoas, pela perda da autonomia e da independência, pelo esfriamento dos vínculos afetivos e pela conduta do grupo de relações ou ausência dele [...]”.

[Revista Brasileira de Geriatria e Gerontologia, Universidade Aberta da Terceira Idade]

PROPOSTA 2

Com base na leitura dos textos motivadores seguintes e nos conhecimentos construídos ao longo de sua formação, redija um texto dissertativo-argumentativo em norma padrão da língua portuguesa sobre o tema **ALIMENTAÇÃO – UMA QUESTÃO DE SAÚDE E DE CULTURA**, apresentando proposta de ação ou experiência social que respeite os direitos humanos. Selecione, organize e relacione, de forma coerente e coesa, argumentos e fatos para defesa de seu ponto de vista.

Texto 1

No mundo contemporâneo, todos estão com pressa. É de conhecimento geral que alimentação e saúde estão intimamente ligados. [...] Ou seja, o alimento está intimamente ligado com o nosso bem estar físico, social e mental, definido segundo a OMS – Organização Mundial da Saúde.

http://www.cdcc.sc.usp.br/ciencia/artigos/art_22/alimentacaosaude.html

Texto 2

Por definição, cultura alimentar é um sistema simbólico, formado pelo conjunto de diversas influências (históricas, ambientais e regionais), nas quais cada sociedade estabelece um conjunto de práticas alimentares consolidadas ao longo do tempo.

Dessa forma, a cultura alimentar é a expressão da identidade de diversos povos por meio da alimentação e é considerada como patrimônio imaterial.

Revista da Associação Brasileira de Nutrição – www.rasbran.com.br/rasbran/article/download/10/12

Texto 3

Ver os netos gordinhos era a alegria das avós do passado. Criança rechonchuda era sinônimo de criança saudável. De certa forma, havia lógica nesse conceito. Numa época em que não existiam antibióticos, crianças mais nutridas resistiam melhor aos processos infecciosos na infância.

PROVA DE CONHECIMENTOS GERAIS

QUESTÃO 1

A ROSA DE HIROXIMA

Pensem nas crianças
Mudas telepáticas
Pensem nas meninas
Cegas inexatas
Pensem nas mulheres
Rotas alteradas
Pensem nas feridas
Como rosas cálidas
Mas oh não se esqueçam

Da rosa da rosa
Da rosa de Hiroxima
A rosa hereditária
A rosa radioativa
Estúpida e inválida
A rosa com cirrose
A antirrosa atômica
Sem cor sem perfume
Sem rosa sem nada.

Vinícius de Moraes

viniciusdemoraes.com.br/pt-br/poesia/poesias-avulsas/rosa-de-hiroxima

Levando-se em consideração a função social que um texto pode desempenhar, no poema anterior, marque a alternativa correta.

- a metáfora presente no título remete às crianças que sofreram durante uma guerra.
- o emprego de paralelismo destaca a dor que as mulheres sentiram durante a guerra.
- o eu lírico faz uma crítica contundente à violência humana e urbana.
- o fim da Segunda Guerra Mundial torna-se foco para as reflexões do poeta.

QUESTÃO 2



A charge, como texto que visa a uma crítica social ou a uma reflexão, emprega elementos verbais e não verbais para a construção de um posicionamento acerca de algum fato de interesse público. Na charge em questão, referente ao desastre ambiental ocorrido na cidade de Mariana e ao atentado terrorista na cidade de Paris:

- a comoção da sociedade em relação às duas tragédias torna-se o foco do trabalho do chargista.
- a crítica do texto é construída a partir da analogia feita ao sangue e à lama, apresentadas em forma de lágrimas.
- a tragédia ocorrida em Paris torna-se alvo da crítica do chargista, que demarca esse posicionamento com o uso de lágrimas.
- o chargista atribui maior importância à tragédia ocorrida na cidade de Mariana.



tribunademinas.com.br/charge-de-mario-tarcitano-e-vista-por-mais-de-7-milhoes-de-pessoas

QUESTÃO 3



Disponível em: <http://www.malvados.com.br>

Na tirinha anterior, de André Draher, há um posicionamento crítico que, de forma subentendida:

- aponta o lado altruísta do ser humano.
- destaca a alteridade como forma de alcançar o bem comum.
- ênfatisa o lado individualista da humanidade.
- questiona a coletividade como forma de ser mais tolerante.

QUESTÃO 4

RELAÇÃO DE PODERES NO BRASIL



http://lh5.ggpht.com/_9Ybll5FGE0/TCA_oPnktZI/AAAAAAAAAF9s/PXMnYaqA2F4/%5BCHARGE%5D%20entendendoomundose5_thumb%5B1%5D.jpg?imgmax=800

Analisando-se o texto verbal da charge e os elementos não verbais nela presentes, identifica-se que:

- a) a ambiguidade que provoca o tom crítico está presente no último verbo da charge.
- b) a divisão dos quatro poderes é necessária para a organização da sociedade.
- c) o complemento sintático-semântico do verbo *executar* é o termo *leis*.
- d) o poder Executivo possui a função de administrar as leis e os outros poderes.

QUESTÃO 5

A charge em questão é uma releitura de um famoso quadro do pintor cubista Pablo Picasso. O recurso da intertextualidade foi ativado para elaborar uma crítica às condições vividas pela sociedade brasileira. O problema social retratado no texto está relacionado à:

- a) condição do transporte público atual.
- b) falta de paciência dos motoristas.
- c) mobilidade nas grandes cidades.
- d) situação precária das rodovias.



Disponível em: <<http://zh.clicrbs.com.br/rs/ultimas-noticias/tag/charge-do-iotti/>>. Acesso em: 30 out. 16

QUESTÃO 6

VOCÊ

ESBOCAIS.COM.BR

Dido

SR. COMPUTADOR,
POR FAVOR, LIBERTE-O
PARA A VIDA VERDADEIRA!

DESISTA DESSA VIDA REAL.
NA INTERNET TUDO É
MUITO MELHOR!

VERDADE! ESSA
REDE SOCIAL
É MUITO DA HORA!

©2011 INGO - TODOS OS DIREITOS RESERVADOS.



Disponível em: <<http://digofreitas.com/wp-content/uploads/2015/01/0063-esbocais-voce.jpg>>. Acesso em: 29out. 2016.

O recurso fundamental para a construção da crítica e do humor no cartum anterior é o uso de:

- a) ambiguidade.
- b) frases exclamativas.
- c) imperativos.
- d) personificações.

QUESTÃO 7

Observe a imagem abaixo e em seguida responda ao que se pede.



FONTE: <http://ajudandoitavo.blogspot.com.br/2013/04/regencia-verbal.html>

A imagem apresenta um desvio gramatical (um “erro”) no emprego da regência do verbo “assistir”. Assinale a alternativa que **corrige** tal “erro”.

- a) Prefiro ir à cavalo pro lado errado do que ir à pé pro lado certo.
- b) Prefiro ir de cavalo pro lado errado do que ir de a pé pro lado certo.
- c) Prefiro ir a cavalo para o lado errado a ir a pé para o lado certo.
- d) Prefiro ir à cavalo pro lado errado do que ir à pé pro lado certo.

QUESTÃO 8

Selfie: a palavra do ano

Recentemente, o termo *selfie* foi alvo de muitas matérias e reportagens, por ter sido eleita a palavra do ano, incorporado ao dicionário virtual da Oxford e por estar sob votação para entrar em sua versão impressa. O uso da palavra aumentou 17.000% desde 2012. Segundo o jornal "USA Today", a escolha diz muito sobre a "obsessão pelas mídias sociais" que vivemos hoje em dia. (...) As motivações desses registros parecem ter similaridades em suas origens históricas, mas é fato conhecido que hoje em dia, com avanços tecnológicos e a possibilidade de compartilhamento muito mais ao alcance das mãos, essas motivações desenvolveram também novos aspectos. Acreditamos que estes registros tenham algum caráter de autoafirmação - comprovar que seu autor esteve naquele local/situação, mostrar que tal situação diz sobre seu jeito de ser, como se a pessoa pudesse se apresentar na rede através desses registros; pertencimento a um grupo (o que chamamos de filiação) e seu reconhecimento dentro dele. Se determinado momento ou atividade é importante para se fazer parte de um determinado grupo, ou alguma ação é valorizada por **ele**, é importante para o usuário realizar esses registros.

http://www2.uol.com.br/vyaestelar/fotografias_tipo_selfie.htm.

No fragmento analisado, o pronome **ele** é utilizado para fazer referência coesiva ao termo:

- a) autor.
- b) grupo.
- c) pessoa.
- d) selfie.

QUESTÃO 9

Los Angeles - O cofundador da banda californiana de rock Eagles of Death Metal, cujo show em Paris foi alvo de um ataque de militantes islâmicos este mês, disse em uma entrevista à Vice **que ficou cara a cara com um homem armado nos bastidores**.

Os membros da banda, em sua primeira entrevista à imprensa desde o ataque, divulgada na quarta - feira, estavam no palco da casa de espetáculos Bataclan em 13 de novembro quando três homens com fuzis e explosivos irromperam no local e mataram 89 pessoas.

Foi o ataque com maior perda de vidas nas ações dos militantes naquela noite em toda a capital francesa, que resultaram em 130 mortos. O Estado Islâmico assumiu a responsabilidade.

O cofundador da banda Jesse Hughes disse **que correu para fora do palco após o tiroteio irromper** e saiu à procura da namorada em um camarim. Não a encontrou, mas ao abrir a porta de acesso a um corredor ficou cara a cara com um homem armado.

(...)

"Eu meio que pulei de meu banco", disse o baterista Julian Dorio. "Quase imediatamente, a pólvora chegou ao meu nariz." Dorio disse **que espiou por um buraco em sua bateria**, mantendo - se agachado por trás, e viu homens armados abrindo uma segunda rodada de fogo.

Disponível em: <<http://exame.abril.com.br/mundo/noticias/banda-que-tocava-no-bataclan-descreve-horror-em-paris>>. Acesso em: 28 out. 2016. (Fragmento)

Na organização das ideias e dos sentidos, diversos são os instrumentos oferecidos pela língua portuguesa para que possamos construir textos coesos e coerentes. Em relação às orações destacadas, nota-se que elas:

- apresentam as opiniões dos jornalistas que presenciaram o atentado.
- articulam valores semânticos de causa e consequência ao texto.
- funcionam como complemento semântico do sujeito de cada sentença.
- introduzem os relatos das situações vivenciadas pelos entrevistados.

QUESTÃO 10

Serenata sintética

Rua
Torta

Lua
Morta

Tua
Porta

Cassiano Ricardo

Disponível em: <<http://blogdopg.blogspot.com.br/2014/12/serenata-sintetica.html>>. Acesso em: 22 out. 2016.

Na construção do poema, é possível perceber, predominantemente, o emprego da função:

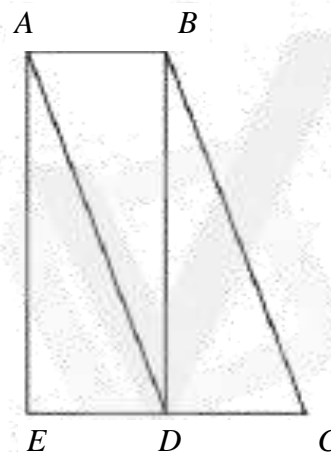
- conativa da linguagem, a partir da tentativa de aproximar-se do interlocutor.
- fática, uma vez que há produção de sons que visam chamar a atenção do leitor.
- poética, já que representa um uso artístico e estético da linguagem.
- referencial, devido ao uso predominante de linguagem denotativa.

QUESTÃO 11

Na figura ao lado ABCD é um paralelogramo; ABDE um retângulo de área 24 cm^2 e D é um ponto do segmento EC.

Qual é a área da figura ABCE?

- 30 cm^2
- 36 cm^2
- 44 cm^2
- 48 cm^2



QUESTÃO 12

Uma rede de cafeterias vende copos térmicos para que o cliente possa comprar seu café e levá-lo em seu próprio recipiente. Como, nesse caso, a empresa economiza com os copos descartáveis, quando o cliente usa o copo térmico da rede, recebe um desconto de R\$0,25 no café. Para decidir se compraria um copo térmico, um cliente calculou que seria necessário receber este desconto 397 vezes para que ele recuperasse o valor a ser pago no copo. O preço de copo térmico é um valor entre:

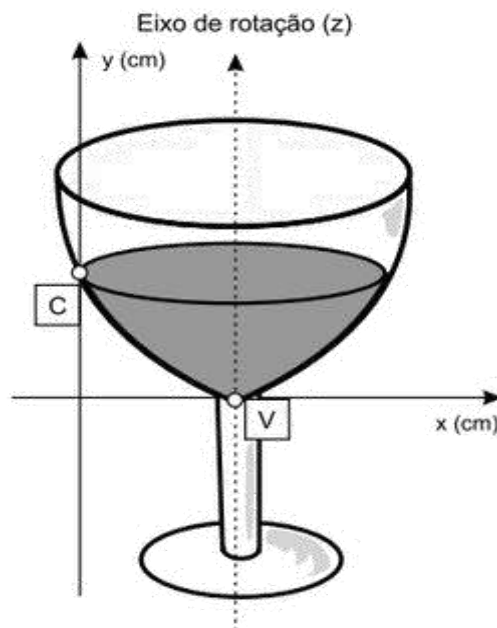
- R\$85,00 e R\$90,00
- R\$90,00 e R\$95,00
- R\$95,00 e R\$100,00
- R\$105,00 e R\$110,00

QUESTÃO 13

A parte interior de uma taça foi gerada pela rotação de uma parábola em torno de um eixo Z, conforme mostra a figura.

A função real que expressa a parábola, no plano cartesiano da figura, é dada pela lei $f(x) = \frac{3}{2}x^2 - 6x + C$, onde C é a medida da altura do líquido contido na taça, em centímetros. Sabe-se que o ponto V, na figura, representa o vértice da parábola, localizado sobre o eixo X. Nessas condições, a altura do líquido na taça, em centímetros, é:

- 3
- 4
- 5
- 6

**QUESTÃO 14**

Uma indústria tem um reservatório de água com capacidade para 900 m^3 . Quando há necessidade de limpeza do reservatório, toda a água precisa ser escoada. O escoamento da água é feito por seis ralos, e dura 6 horas quando o reservatório está cheio. Esta indústria construiu um novo reservatório, com capacidade de 500 m^3 , cujo escoamento da água deverá ser realizado em 4 horas, quando o reservatório estiver cheio. Os ralos utilizados no novo reservatório deverão ser idênticos aos do já existente.

A quantidade de ralos do novo reservatório deverá ser igual a:

- 2
- 4
- 5
- 8

QUESTÃO 15

Uma empresa de refrigerantes, que funciona sem interrupções, produz um volume constante de 1800000 cm^3 de líquido por dia. A máquina de encher garrafas apresentou um defeito durante 24 horas. O inspetor de produção percebeu que o líquido chegou apenas à altura de 12 cm dos 20 cm previstos em cada garrafa. A parte inferior da garrafa em que foi depositado o líquido tem forma cilíndrica com raio da base de 3 cm. Por questões de higiene, o líquido já engarrafado não será reutilizado.

Utilizando $\pi = 3$, no período em que a máquina apresentou defeito, aproximadamente quantas garrafas foram utilizadas?

- 555
- 5555
- 1333
- 13333

QUESTÃO 16

De um recipiente cheio de água, tiram-se $\frac{2}{3}$ de seu conteúdo. Recolocando-se 60 litros de água, o conteúdo passa a ocupar a metade do volume inicial. A capacidade do recipiente é:

- 120 litros
- 180 litros
- 240 litros
- 360 litros

QUESTÃO 17

Em uma pesquisa realizada com 1000 pessoas para saber que esporte elas apreciam entre futebol, basquete e vôlei, o resultado foi o seguinte: 460 gostam de futebol, 360 de basquete e 280 de vôlei; 100 gostam de futebol e de basquete; 90 de futebol e de vôlei; 80 de basquete e de vôlei e 50 gostam das três modalidades. Quantas pessoas não gostam de nenhum desses esportes?

- 120
- 170
- 200
- 210

QUESTÃO 18

No último semestre o preço de um determinado produto teve dois aumentos consecutivos. O primeiro de 30% e o segundo de 28%. Em relação ao preço inicial desse produto, qual foi a porcentagem de aumento?

- a) 29%
- b) 58%
- c) 66,4%
- d) 72,6%

QUESTÃO 19

Um estacionamento para carros cobra R\$ 2,00 pela primeira hora e R\$ 0,75 a cada hora ou fração de hora seguinte. Luís Filipe estacionou seu carro às 11h20min e saiu às 15h40min. Quantos reais ele deve pagar pelo estacionamento?

- a) R\$ 2,50.
- b) R\$4,50
- c) R\$5,00
- d) R\$6,75

QUESTÃO 20

Um pai tem 33 anos e seu filho, 7 anos. Depois de quantos anos a idade do pai será o triplo da idade do filho?

- a) 3
- b) 7
- c) 6
- d) 9

QUESTÃO 21

Quanto seja louvável a um príncipe manter a fé, aparentar virtudes e viver com integridade, não com astúcia, todos o compreendem; contudo, observa-se, pela experiência, em nossos tempos, que houve príncipes que fizeram grandes coisas, mas em pouca conta tiveram a palavra dada, e souberam, pela astúcia, transtornar a cabeça dos homens, superando, enfim, os que foram leais (...). Um príncipe prudente não pode nem deve guardar a palavra dada quando isso se lhe torne prejudicial e quando as causas que o determinaram cessem de existir.

(Nicolau Maquiavel, O Príncipe. São Paulo: Nova Cultural, 1997, p. 73-85.)

A partir desse excerto da obra, publicada em 1513, é correto afirmar que:

- a) O jogo das aparências e a lógica da força são algumas das principais artimanhas da política moderna explicitadas por Maquiavel.
- b) A prudência, para ser vista como uma virtude, não depende dos resultados, mas de estar de acordo com os princípios da fé.
- c) Os princípios e não os resultados é que definem o julgamento que as pessoas fazem do governante, por isso é louvável a integridade do príncipe.
- d) A questão da manutenção do poder é o principal desafio ao príncipe e, por isso, ele não precisa cumprir a palavra dada, desde que autorizado pela Igreja.

QUESTÃO 22

Por que a ética voltou a ser um dos temas mais trabalhados do pensamento filosófico contemporâneo? Nos anos 1960 a política ocupava esse lugar e muitos cometeram o exagero de afirmar que tudo era político.

(José Arthur Gianotti, "Moralidade Pública e Moralidade Privada", em Adauto Novaes, Ética. São Paulo: Companhia das Letras, 1992, p. 239.)

A partir desse fragmento sobre a ética e o pensamento filosófico, é correto afirmar que:

- a) O tema foi relevante na obra de Aristóteles e apenas recentemente voltou a ocupar um espaço central na produção filosófica.
- b) Os impasses morais e éticos das sociedades contemporâneas reposicionaram o tema da ética como um dos campos mais relevantes para a Filosofia.
- c) O pensamento filosófico abandonou sua postura política após o desencanto com os sistemas ideológicos que eram vigentes nos anos 1960.
- d) Na atualidade, a ética é uma pauta conservadora, pois nas sociedades atuais, não há demandas éticas rígidas.

QUESTÃO 23

Muitos intelectuais, boa parte da imprensa e dos meios de comunicação, e a sociedade em geral usam o termo populismo para caracterizar uma prática política contemporânea que relaciona as massas e o governante.

Sobre o populismo, é correto afirmar que:

- a) A figura do líder é fundamental no populismo, a exemplo de Getúlio Vargas e Jânio Quadros, sendo muito forte no Brasil entre 1930 e 1964. Tal prática requer carisma do líder, a fim de diminuir a participação das massas e impedir o nacional-desenvolvimentismo.
- b) As massas, em suas expectativas, alinham-se às camadas médias, que são ressentidas por não se tornarem classes dominantes. Surgem, nesse processo, líderes vindos das camadas médias que manipulam as massas, destituídas de vontade política.
- c) Ocorre uma associação entre as massas urbanas e o dirigente político carismático que exerce o papel de liderança. É um fenômeno de participação política das classes populares urbanas pouco atingidas pelo desenvolvimento industrial e pelas migrações.
- d) O termo é muito usado para nomear um fenômeno político comum na América Latina entre as décadas de 1930 e 1960, sendo associado aos processos de industrialização, urbanização e à emergência de líderes carismáticos.

QUESTÃO 24

Desde a queda do império comunista na Europa, nos anos 1989-1991, assiste-se a uma nova forma de messianismo político que consiste em impor o regime democrático e os direitos humanos pela força.

(Adaptado de Tzvetan Todorov, Os inimigos íntimos da democracia. São Paulo: Companhia das Letras, 2012, p. 55.)

O quadro descrito pelo texto pode ser analisado:

- a) como herança das lutas anticoloniais exemplificada na organização em torno do Estado multiétnico, como ocorreu na África do Sul.
- b) como parte da nova ordem mundial sob a liderança dos EUA e seu poder bélico em regiões como a Síria e o Afeganistão.
- c) como o estabelecimento de um princípio que desestabiliza as lógicas internas de organização, como ocorreu no Iraque e na ex-Iugoslávia.
- d) como herança da Guerra Fria e como utilização da lógica militar que inviabiliza a adoção da democracia em regiões como a Ucrânia.

QUESTÃO 25

O processo contemporâneo de metropolização do espaço e a grande metamorfose que vem ocorrendo em algumas metrópoles têm significado mudanças territoriais expressivas. Há intensificação e multiplicidade de fluxos de pessoas, mercadorias e informações, bem como crescimento do número de cidades conturbadas, onde não se distingue muito bem, na continuidade da imensa área construída, o limite municipal de cada uma delas. Tanto em São Paulo, por exemplo, como na Cidade do México, em Buenos Aires ou em Santiago, vamos encontrar a manifestação desse momento mais avançado da urbanização.

(Adaptado de Sandra Lencioni, A metamorfose de São Paulo: o anúncio de um novo mundo de aglomerações difusas. Revista Paranaense de Desenvolvimento, Curitiba, n.120, p. 133-148, jan./jun., 2011.)

Tendo em vista a metrópole contemporânea, é correto afirmar que se trata de uma:

- a) única aglomeração, mas dispersa e fragmentada, onde fluxos imateriais regem um conjunto diferenciado de lugares.
- b) única aglomeração, pois é compacta e coesa, onde fluxos imateriais regem um conjunto diferenciado de lugares.
- c) metrópole compacta e coesa, organizada exclusivamente por uma estrutura hierárquica de fluxos imateriais.
- d) metrópole dispersa e fragmentada, organizada exclusivamente por uma estrutura hierárquica de fluxos materiais.

QUESTÃO 26

Em dezembro de 2010 foi sancionada e regulamentada a Política Nacional de Resíduos Sólidos (PNLR), que reúne o conjunto de diretrizes e ações a ser adotado, com vistas à gestão integrada e ao gerenciamento adequado dos resíduos sólidos. Quanto ao objeto e ao campo de aplicação da PNLR, é correto afirmar que:

- a) Institui a responsabilidade compartilhada dos geradores de resíduos sólidos, incluindo fabricantes, importadores, distribuidores, comerciantes e consumidores.
- b) Se aplica aos resíduos radioativos, pois estes não são regulados por leis específicas de acordo com o Ministério do Meio Ambiente.
- c) Serão permitidos os lixões a céu aberto, de acordo com a legislação, nas áreas que não coloquem em risco as nascentes de rios e os lençóis freáticos.
- d) Estão sujeitas à observância desta lei apenas as pessoas jurídicas, de direito público ou privado, responsáveis, direta ou indiretamente, pela geração de resíduos sólidos.

QUESTÃO 27

“De cada 1000 reais que um brasileiro recebe de salário, 400 são consumidos pelos impostos”.
In: Revista Veja, 2/6/2010, p. 207.

Responda **corretamente** o que se propõe.

1. A reforma tributária promovida há 2 anos, após tramitação longa no Congresso Nacional, eliminou impostos cobrados em duplicidade pelos estados e pelos municípios.
2. A CPMF, contribuição sobre movimentações financeiras, ainda em vigor no país, destina todo o recurso arrecadado para a área de saúde.
3. O Imposto de Renda da Pessoa Física é o único imposto cobrado pelo Governo Federal e incide sobre a renda das famílias de maneira igualitária, o que causa forte desagrado da classe média nacional.
4. Uma das fontes de insatisfação da sociedade brasileira é o nível de serviço público recebido, em especial nas áreas de educação, saúde e segurança; frente o montante arrecadado com impostos pelo governo.

Assinale:

- a) Se a 1 estiver correta e a 3 estiver errada.
- b) Se somente a 2 estiver correta.
- c) Se a 3 estiver correta e a 4 estiver errada.
- d) Se somente a 4 estiver correta.

QUESTÃO 28

Em junho de 2013, a cidade do Rio de Janeiro foi palco da Jornada Mundial da Juventude, acontecimento de dimensão global que contou com a presença do Papa Francisco. Outro evento, que aconteceu na capital fluminense, neste ano de 2016, atraindo milhões de pessoas foi:

- a) Os Jogos da Primavera.
- b) Os Jogos Olímpicos.
- c) A Copa das Confederações.
- d) O Mundial de Basquete de Praia.

QUESTÃO 29

O agronegócio desempenha papel relevante na pauta das exportações brasileiras. O avanço obtido pelo país na produção de alimentos deve-se ao trabalho de uma instituição científica voltada para o campo e com reconhecimento internacional. Essa instituição é o (a):

- a) Financiadora de Estudos e Projetos (Finep).
- b) Ministério da Ciência e da Tecnologia (MCT).
- c) Empresa Brasileira de Pesquisa Agropecuária (Embrapa).
- d) Conselho Nacional de Desenvolvimento Científico e Tecnológico (CNPq).

QUESTÃO 30

Leia o texto.

“Para reduzir o aquecimento global, cada país teria de fazer investimentos equivalentes a 0,06% de seu PIB. É pouquíssimo, em especial se for considerada a gravidade das mudanças climáticas e suas consequências. Todo o mundo será afetado pelo aquecimento global, em especial as nações mais pobres, e poderá haver graves riscos à segurança alimentar, além do surgimento de novos bolsões de miséria. Os alertas feitos na recente apresentação do relatório-síntese do IPCC (Painel Intergovernamental sobre Mudanças Climáticas), na Dinamarca [...] O entendimento e a adoção de providências são impreteríveis, pois o fenômeno, se não for controlado logo, aumentará a probabilidade de impactos severos, invasivos e sem volta para os ecossistemas.”

(Adaptado do jornal Folha de S. Paulo, 14.nov.2014).

Veja as alternativas:

- I) São necessários grandes investimentos para superar o caos das mudanças climática atuais, por isso, a solução do problema é ignorado pelas nações.
- II) Com pouco investimento as nações do mundo podem reduzir o aquecimento global e evitar uma crise mundial de abastecimento.
- III) A adoção de novas fontes de energia, combinadas com maior desenvolvimento industrial favorecem a melhoria do clima e evitam a pobreza.
- IV) Os países mais pobres não são afetados pelas mudanças climáticas porque não promovem grandes intervenções na natureza

Assinale **corretamente**:

- a) III correta.
- b) I, II e III corretas.
- c) II correta.
- d) II, III e IV erradas.